

ADIM SOYADIM:

HAYAT BİLGİSİ 2. SINIF SENE SONU GENEL DEĞERLENDİRME SINAVI

SORULAR

1-) Ulaşım araçlarıyla güvenli yolculuk yapma ile ilgili aşağıdakilerden hangisi doğrudur?

A-)Yolculuk yaparken dışarıda olanları daha iyi görebilmek için pencereye başımızı uzatarak dışarı bakmalıyız

B-) Bizi sıkmaya başladığı zaman emniyet kemerini üzerimizden çıkarabiliriz

C-) Sürücüyü rahatsız edersek kaza yapabilir



2-) Türk bayrağının göklerde dalgalanması, İstiklal Marşı'nın her yerde okunması aşağıdakilerden hangisini gösterir?

A-) Düşmanların ülkemizle savaşıp bizi yenerek savaşı kazandıklarını B-)Savaşmayı çok seven bir millet olduğumuzu

C-) Bağımsız, özgür bir millet olduğumuzu



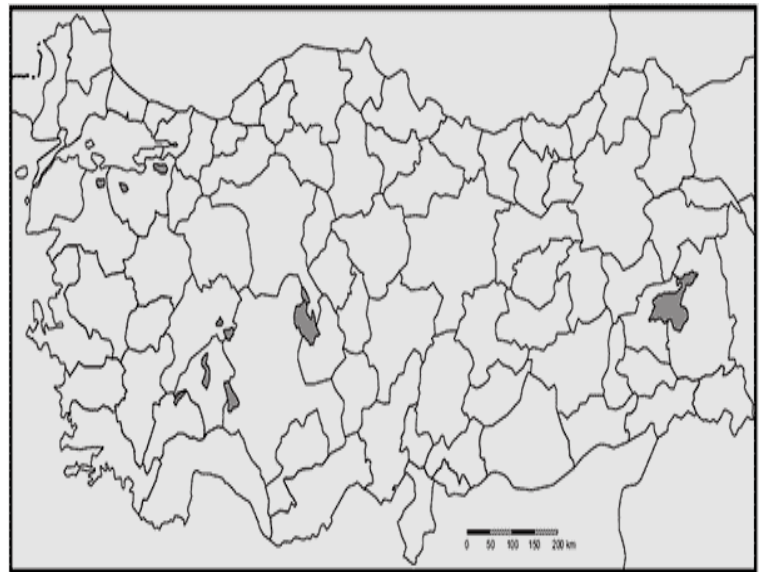
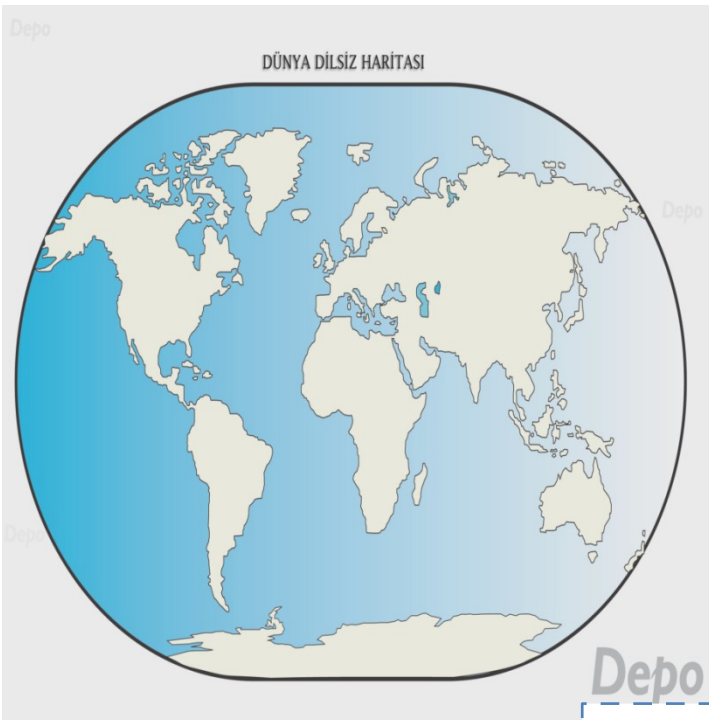
3-) Oyun aletlerini nasıl kullanmalıyız?

A-) Oyun aletini kullanmadan önce herhangi bir önlem almamıza gerek yoktur

B-) Oyun aletini kullanmadan önce güvenlik önlemlerini almalıyız

C-) Oyun aletlerinin hepsi sağlımıza uygun olduğu için dilediğimiz gibi kullanabiliriz

4-) Aşağıdaki dünya haritasında Türkiye'nin ve Türkiye haritasında Ankara'nın yerini işaretleyelim veya boyayalım



5-) Aşağıdakilerden hangisi Ankara'ya ait özelliklerdendir?

- A-) Ankara horonu, Ankara pastırması
- B-) Ankara keçisi, Ankara döneri
- C-) Ankara ormanları, Ankara kayısısı


6-) Milli bayramlarımız bizler için neden önemlidir?

- A-) O günlerde okullar tatil olduğu için
- B-) Milletçe birliğimizi ve beraberliğimizi sağladığı için
- C-) Tarihte o günlerde düşmanlarla savaştığımız için



7-) Ankara üretim faaliyetleri açısından oldukça zengin bir ilimizdir. Birçok tarımsal ürün yetişmektedir. En çok buğday, arpa gibi tahıllar yetişmektedir. Ayrıca hayvancılık da çok gelişmiştir. Ankara keçisi, Ankara kedisi Ankara'nın simgeleri haline gelmiştir. Buna göre aşağıdakilerden hangisi doğrudur?

- A-) Ankara'da üretim faaliyetleri çok azdır
- B-) Ankara'nın simgesi olan tek hayvan Ankara keçisidir
- C-) Buğday Ankara'da çok fazla yetişmektedir



8-) Aşağıdakilerden hangisi yanlıştır?

- A-) Bitkilerin yaşaması için suya ihtiyaç vardır, hayvanların da yaşaması için suya ihtiyaç vardır
- B-) Bitkilerin yaşaması için ışığa ihtiyaç vardır, hayvanların da yaşaması için ışığa ihtiyaç vardır
- C-) Bitkilerin yaşaması için havaya ihtiyaç vardır, hayvanların da yaşaması için havaya ihtiyaç vardır

9-) Ayşe yakın çevresindeki boş bir araziye bir fidan diyor ve onun bakımını yapıyor. Ali ise dışarıdaki sahipsiz bir köpeğin bakımını yapıyor. Bu durumda aşağıdakilerden hangisi söylenebilir?

- A-) Ayşe'nin yaptığı iş gelecekteki nefes aldığımız havamızın çoğalmasını sağlar
- B-) Ali'nin yaptığı iş ona biraz mutluluk verse de başka kimseye hiçbir iyi şey sağlamaz
- C-) Ayşe hayvanları sevmiyor, Ali ise bitkileri sevmiyor



10-) Elif yemek yedikten sonra yere düşürdüğü portakal kabuklarını ve ekmek kırıntılarını denize attı. Sonrasında plajda gezinirken gördüğü kağıt parçalarını,

plastik su şişelerini ve pili büyük çöp kovasına attı.

Herkesin Elif gibi yapması durumunda gelecekte aşağıdakilerden hangisi gerçekleşebilir?

A-) Gelecekte herhangi bir değişiklik olmaz

B-) Çevre kirliliği azalır, temiz hava artar, insanların sağlığı iyi olur

C-) Çevre kirliliği artar, temiz hava azalır, insanların sağlığı bozulabilir

11-) Sıcak ve soğuk havanın çarpışıp birbiriyle yer değiştirmesi sonucu aşağıdaki doğa olaylarından hangisi oluşur?

A-) Yağmur

B-) Sis

C-) Rüzgar

12-) Buharlaşarak yukarı çıkan suyun tekrar yağmur olarak aşağıya inmesi için yukarıda nasıl bir havayla karşılaşması gerekir?

A-) Sıcak

B-) Soğuk

C-) Ilık



13-) “Sel, fırtına, deprem, heyelan, çığ” aşağıdakilerden hangisine bir örnektir?

A-) Doğa harikaları

B-) Film isimleri

C-) Doğal afetler

14-) Aşağıdaki doğal afetler ve alınacak önlemler eşleştirmelerinden hangisi doğrudur?

A-) Ağaçlandırma yapmak: Heyelan Panik yapmamak: Bütün doğal afetler

B-) Ağaçlandırma yapmak: Deprem Panik yapmamak: Sadece deprem C-) Ağaçlandırma yapmak: Yangın Panik yapmamak: Sadece sel



15-) Dini bayramlarımız bizler için neden önemlidir?

A-) Komşulara gidip baklava, şeker yediğimiz için

B-) Büyüklerimizin elini öpüp harçlığımızı aldığımız için C-) Komşularımızla ve akrabalarımızla olan dayanışmamızı artırdığı için

16-) Yönlerle ilgili aşağıdakilerden hangisi doğrudur?

A-) Önüm kuzeyi gösteriyorsa arkam batıyı gösterir

B-) Kolumu açtığımda sağ kolum doğuyu gösteriyorsa sol kolum batıyı gösterir

C-) Güneşin doğduğu yön her gün değişir

www.slaytyerim.com

